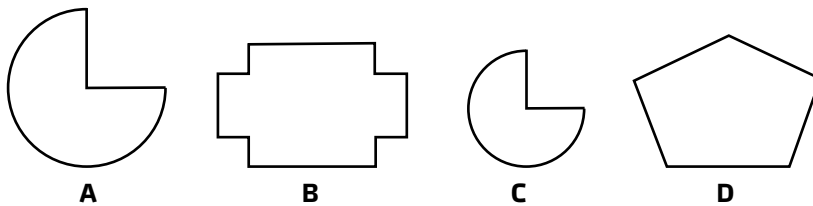
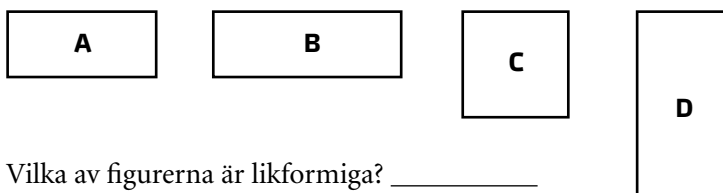


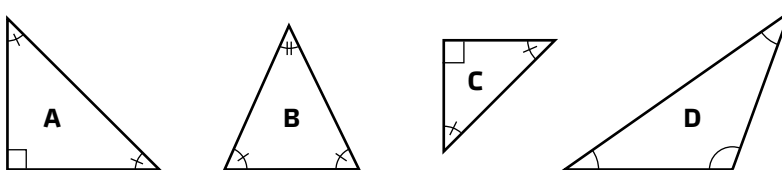
Likformighet



- 1** a) Vilka av figurerna är likformiga? _____
 b) Varför är de likformiga? _____

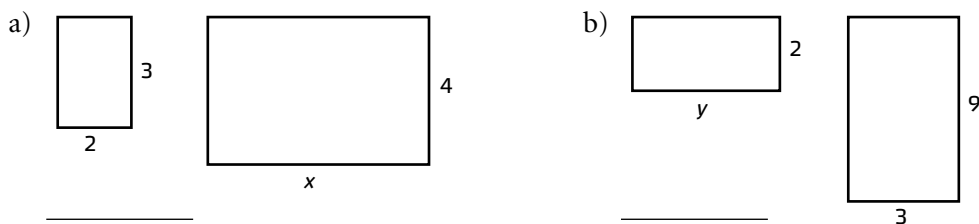


- 2** a) Vilka av figurerna är likformiga? _____
 b) Varför är de likformiga? _____



- 3** a) Vilka av figurerna är likformiga? _____
 b) Varför är de likformiga? _____

- 4** Rektanglarna är likformiga. Hur långa är sidorna x och y ?



- 5** Trianglarna är likformiga. Hur långa är sidorna x och y ?

