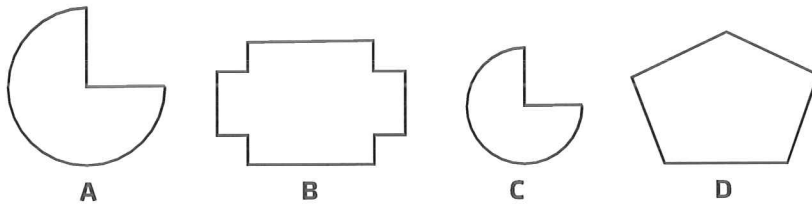
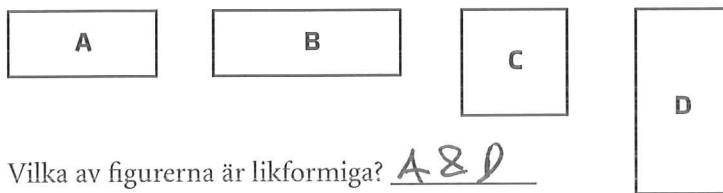


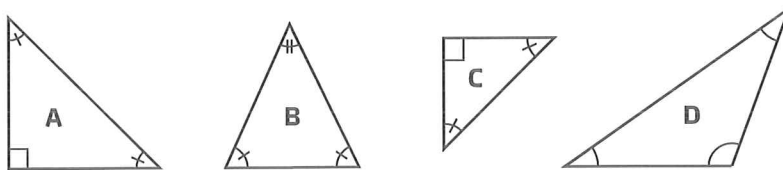
Likformighet



- 1 a) Vilka av figurerna är likformiga? A & C
 b) Varför är de likformiga? Samma form : olika skala

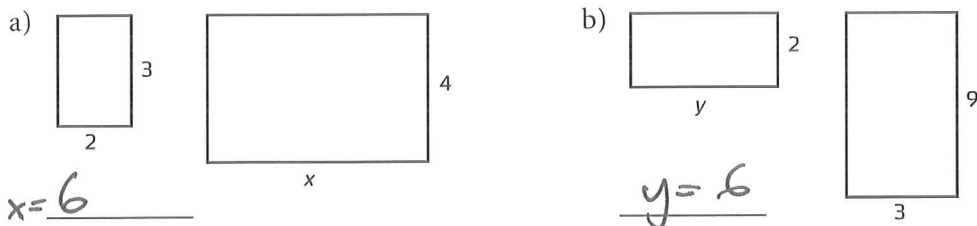


- 2 a) Vilka av figurerna är likformiga? A & D
 b) Varför är de likformiga? Samma förhållande mellan längd & bredd



- 3 a) Vilka av figurerna är likformiga? A & C
 b) Varför är de likformiga? Samma vinklar

4 Rektanglarna är likformiga. Hur långa är sidorna x och y ?



5 Trianglarna är likformiga. Hur långa är sidorna x och y ?

