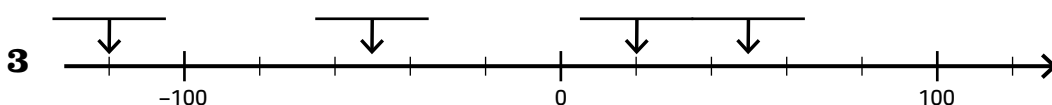
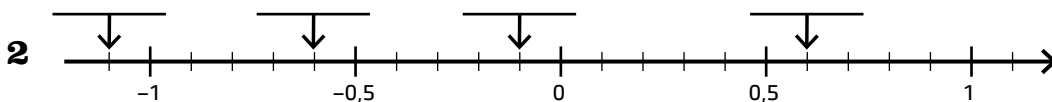
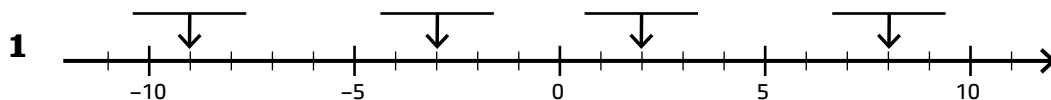


Negativa tal

Skriv de tal som är markerade på tallinjen.



Addera med ett positivt tal. Värdet ökar.

4 a) $(-5) + 1 =$ _____ b) $(-9) + 9 =$ _____ c) $(-6) + 8 =$ _____

5 a) $(-4) + 6 =$ _____ b) $(-8) + 3 =$ _____ c) $(-2) + 11 =$ _____

Addera med ett negativt tal. Värdet minskar.

6 a) $9 + (-2) =$ _____ b) $9 + (-9) =$ _____ c) $9 + (-12) =$ _____

7 a) $(-7) + (-3) =$ _____ b) $(-8) + (-7) =$ _____ c) $(-4) + (-10) =$ _____

Subtrahera med ett positivt tal. Värdet minskar.

8 a) $7 - 4 =$ _____ b) $9 - 9 =$ _____ c) $5 - 10 =$ _____

9 a) $(-6) - 8 =$ _____ b) $(-2) - 12 =$ _____ c) $0 - 3 =$ _____

Subtrahera med ett negativt tal. Värdet ökar.

10 a) $4 - (-2) =$ _____ b) $9 - (-9) =$ _____ c) $5 - (-10) =$ _____

11 a) $0 - (-6) =$ _____ b) $(-7) - (-2) =$ _____ c) $(-5) - (-5) =$ _____

Beräkna

12 a) $14 + (-7) =$ _____ b) $(-12) + 8 =$ _____ c) $7 - (-13) =$ _____

13 a) $(-45) - 12 =$ _____ b) $(-32) + (-12) =$ _____ c) $(-8) - (-19) =$ _____