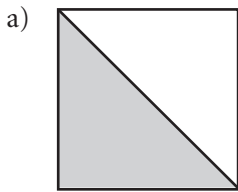
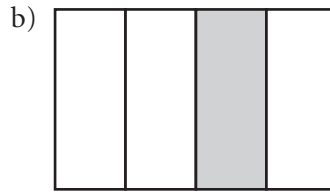
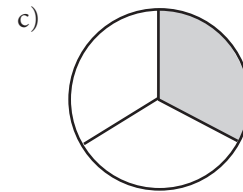


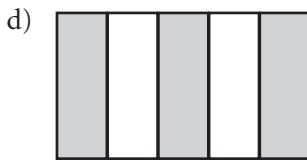
Hur många procent?

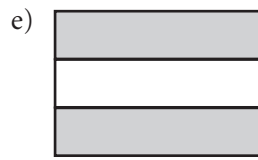
- 1** Hur stor del av figuren är skuggad?
Svara både i bråkform och i procentform.

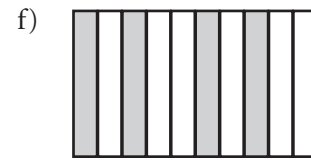












Hur många procent är

2 a) 3 av 10 = _____

b) 8 av 10 = _____

c) 4 av 5 = _____

d) 3 av 5 = _____

3 a) 5 av 20 = _____

b) 12 av 20 = _____

c) 14 av 50 = _____

d) 30 av 200 = _____

Tänk: Hur många är det av 100.



Använd räknaren och avrunda till hela procent i uppgift 4 till 6.

Hur många procent är

4 a) 12 av 45 \approx _____

b) 17 av 65 \approx _____

c) 32 av 38 \approx _____

5 a) 6 av 81 \approx _____

b) 8 av 34 \approx _____

c) 5 av 42 \approx _____

6 a) 24 av 52 \approx _____

b) 78 av 89 \approx _____

c) 65 av 120 \approx _____